



VERSENYFELADATOK

Kultúrtörténeti teszt

2013-2014. 1. forduló, 1. kategória

A versenyző neve: Osztálya:
Iskolája: Felkészítő tanára:
Pontszáma:

Kedves Versenyző!

Minden feladatot olvass el figyelmesen, mielőtt hozzálátnál a megoldáshoz! A tesztlap kitöltéséhez 75 perc áll rendelkezésedre. Jó munkát és sok sikert kívánnak:

a Szervezők

1. Kítől származnak az idézett sorok, mondatok?

a) „Sok van, mi csodálatos, de az embernél nincs semmi csodálatosabb”

.....

b) „én zengtem először, én, lenről-jött s meredek csúcsra jutott, görög verset római lant húrjain...”

.....

c) „Éljünk, Lesbia, és szeressük egymást”

.....

d) „Édesanyám, az ezürtlábú Thetisz, isteni asszony, mondta, hogy engem kettős végzete vár a halálnak.”

.....

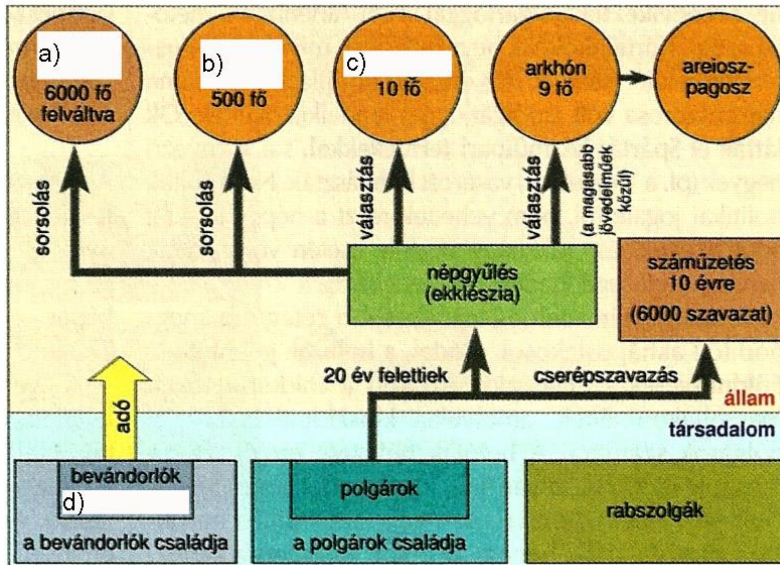
e) „Gyűlölöm azt, aki telt kupa mellett bort iszogatván háborut emleget”

.....

--	--

2. Az ábra az athéni demokrácia államszervezetét szemlélteti. Egészítsd ki a megadott fogalmakkal: a válaszokat írd az ábra alatti vonalakra!

Nevek, fogalmak: *metoikoszok, sztratégoszok, esküdtbírótság (héliaia), tanács (bulé)*



- a)
b)
c)
d)

--	--

3. a) Keresd meg az egymással szövetségben álló politikusokat, hadvezéreket: írd a betűket a megfelelő helyre!

b) Keresd meg a „kakukktójás-párt”, amely nem szövetségeseket, hanem ellenfeleket jelöl. Ezt – párosítás nélkül – jelöld aláhúzással.

- | | | |
|----------------|-------------|--------------------|
| 1. Lepidus | — | A: Themisztoklész |
| 2. Nagy Sándor | — | B: Crassus |
| 3. Pompeius | — | C: Antonius |
| 4. Leónidász | — | D: (III.) Dareiosz |

--	--

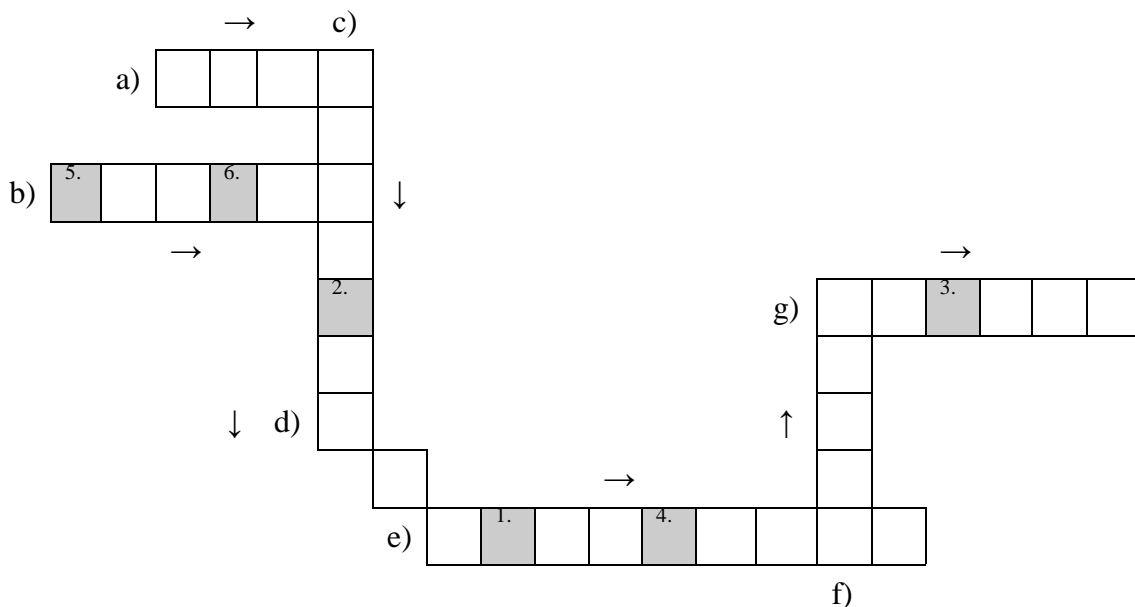
4. Egészítsd ki az időrendi sor hiányzó elemeit a megfelelő betű beillesztésével!

- | | |
|-----------------|-----------------|
| A) Hadrianus | B) Diocletianus |
| C) Nero | D) Tiberius |
| E) Constantinus | F) Vespasianus |

. ; Claudius; ; ; Traianus; ; Marcus Aurelius; ; ;

--	--

5. Töltsd ki a rejtvényt! Figyelj a helyes irányra, haladj a hidra fejétől a farkáig! Olvasd össze a kiemelt betűket a számmal jelzett sorrendben a megoldásért!



- a) A trójai Helené állandó eposzi jelzője (magyarul!).
- b) Octavianus itt aratott győzelmet Kr. e. 31-ben Marcus Antonius felett.
- c) A város pusztulásáról íj. Plinius is beszámolt levelében.
- d) Párizs ezen a hegyen adta oda az aranyalmát Aphroditének. (Három betű átlósan.)
- e) A phaiákok királya, Odüsszeusz házigazdája.
- f) A római női ruházat egyik darabja, a férjes római asszonyok megkülönböztető öltözéke. (Öt betű letről fölfelé.)
- g) Az ősi római ház központja, egyben a legfontosabb helyisége.
- h) Megoldás: a Herculessel harcoló hidra jelzője:

--	--

6. Olvasd el a következő költeményt és válaszolj az alábbi kérdésekre!

„Csak ne dicsérd a halált nékem soha, fényes Odüsszeusz.
Napszámban szivesebben túrnám másnak a földjét,
egy nyomorultét is, kire nem szállt gazdag örökség,
mint hogy az összes erőtlén holt fejedelme maradjak.”

a) Ki az idézett költemény szerzője?

.....

b) Ki beszél az idézett helyen?

.....

c) Nevezd meg a költemény műfaját!

.....

d) Milyen sorfajta jellemző erre a műfajra?

.....

--	--

7. Döntsd el az alábbi állításokról, hogy igazak vagy hamisak! Húzd alá, vagy karikázd be a megfelelő választ!

a) Octavianus Actiumnál döntő győzelmet aratott Antonius hadereje fölött. *igaz – hamis*

b) A görög színházművészet kultikus eredetű: az Apollón-kultusz szertartásából vált művészi jelenséggé. *igaz – hamis*

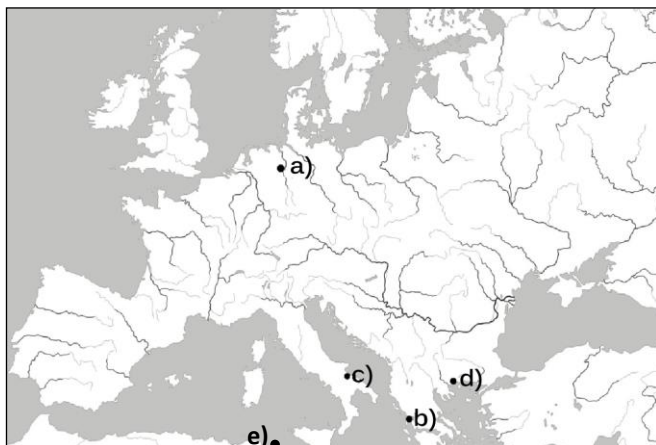
c) Horatius rövidebb költeményei mellett költői leveleket (*epistulae*) és drámákat is írt. *igaz – hamis*

d) Az athéni demokrácia Peiszisztratosz működése idején nyerte el végleges formáját. *igaz – hamis*

e) Nagy Sándor keleti hadjárata során elfoglalta a perzsa fővárost, Perszopoliszt is. *igaz – hamis*

--	--

8. A feladat a római történelem fontosabb és nagyobb csatáival kapcsolatos. Az alábbi földrajzi helyeket és városokat párosítsd a térképen található megfelelő betűikkel! A megoldásokat írd a kipontozott helyre! Egy helyszín nincs jelölve a térképen.



- a) A) Záma
- b) B) a teutoburgi erdő
- c) C) Actium
- d) D) Philippi
- e) E) Cannae
- F) Pharszalosz

--	--




9. a) Odüsszeusz melyik aktuális ellenségére, kalandjára utal a kép? Írd a nevet a megfelelő kép alá! Melyik kép?

b) Melyik jelenet *nem* szerepel az Odüsszeiában? Írd a kép alá, kit, vagy kiket ábrázol, majd írd ide a kép betűjelét:



A:

B:



C:

--	--